

**Проверочная работа
по МАТЕМАТИКЕ**

6 класс

Вариант 14

Инструкция по выполнению работы

На выполнение работы по математике даётся 60 минут. Работа содержит 13 заданий.

В заданиях, после которых есть поле со словом «Ответ», запишите ответ в указанном месте.

В задании 12 нужно сделать чертёж или рисунок.

В заданиях, после которых есть поля со словами «Решение» и «Ответ», запишите решение и ответ в указанных местах.

Если Вы хотите изменить ответ, зачеркните его и запишите рядом новый.

При выполнении работы нельзя пользоваться учебниками, рабочими тетрадями, справочниками, калькулятором.

При необходимости можно пользоваться черновиком. Записи в черновике проверяться и оцениваться не будут.

Советуем выполнять задания в том порядке, в котором они даны. Для экономии времени пропускайте задание, которое не удаётся выполнить сразу, и переходите к следующему. Постарайтесь выполнить как можно больше заданий.

Желаем успеха!

1 Вычислите: $73 + 15 \cdot (-3)$.

Ответ:

2 Вычислите: $\frac{35}{24} : \frac{15}{32} - 3$.

Ответ:

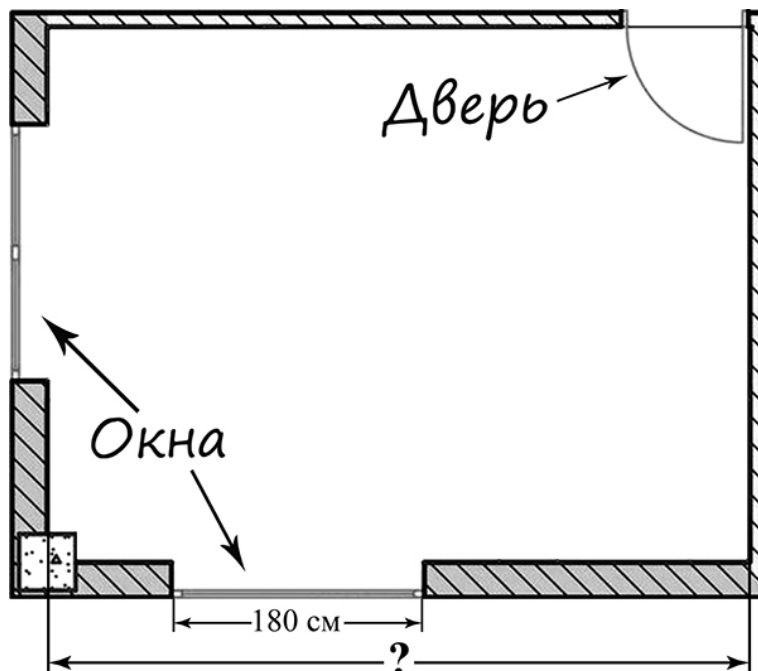
3 За первый час велосипедист проехал три седьмых всего пути, а за второй — оставшиеся 28 км. Сколько всего километров велосипедист проехал за два часа?

Ответ:

4 Вычислите: $(4,5 - 8,3) : 0,8$.

Ответ:

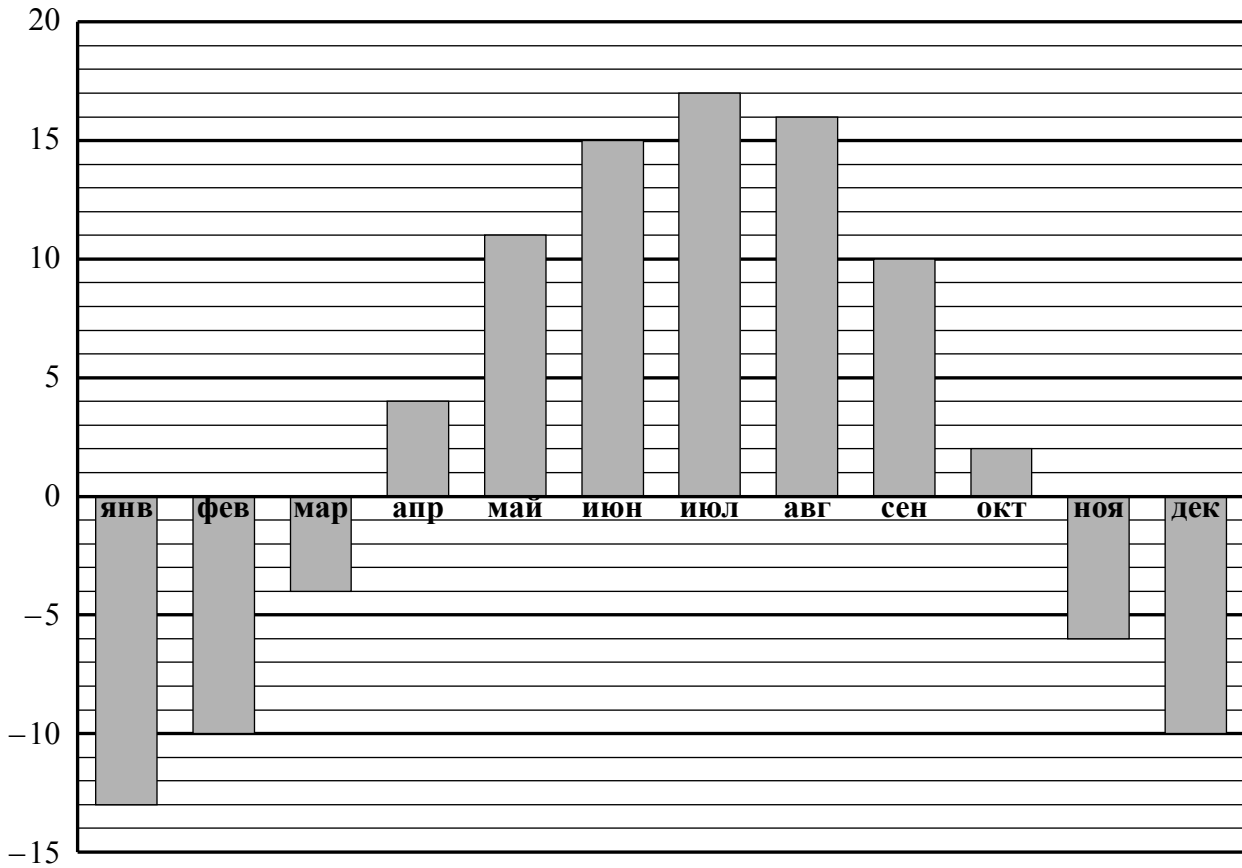
5 На рисунке изображён план комнаты. Ширина окна равна 180 см. Найдите, чему примерно равна длина комнаты (на рисунке обозначена знаком вопроса). Ответ дайте в сантиметрах.



Ответ:

6

На диаграмме показана средняя температура воздуха в Перми в каждом месяце. По вертикали указана температура воздуха в градусах Цельсия, по горизонтали — месяцы. В каком месяце второго полугодия средняя температура воздуха была самой низкой?



□

| | | | | | | | | | | | | | | | | | | | | | | | | | | | | | | | | | | | | | | | | | | | | | | | | | | | | | | | | | | | | | |
|--------|-----------------------------------------------------------------------------------------------------------------------------------------------------------------------------------------------------------------------------------------------------------------------------------------------------------------------------------------------------------------------------------------------------------------------------------------------------------------------------------------------------------------------------------------------------------------------------------------------------------------------------------------------------------------------------------|--|--|--|--|--|--|--|--|--|--|--|--|--|--|--|--|--|--|--|--|--|--|--|--|--|--|--|--|--|--|--|--|--|--|--|--|--|--|--|--|--|--|--|--|--|--|--|--|--|--|--|--|--|--|--|--|--|--|--|--|
| Ответ: | <table border="1"> <tr><td> </td><td> </td><td> </td><td> </td><td> </td><td> </td><td> </td><td> </td><td> </td><td> </td><td> </td><td> </td><td> </td><td> </td><td> </td><td> </td><td> </td><td> </td><td> </td><td> </td></tr> <tr><td> </td><td> </td><td> </td><td> </td><td> </td><td> </td><td> </td><td> </td><td> </td><td> </td><td> </td><td> </td><td> </td><td> </td><td> </td><td> </td><td> </td><td> </td><td> </td><td> </td></tr> <tr><td> </td><td> </td><td> </td><td> </td><td> </td><td> </td><td> </td><td> </td><td> </td><td> </td><td> </td><td> </td><td> </td><td> </td><td> </td><td> </td><td> </td><td> </td><td> </td><td> </td></tr> </table> | | | | | | | | | | | | | | | | | | | | | | | | | | | | | | | | | | | | | | | | | | | | | | | | | | | | | | | | | | | | |
| | | | | | | | | | | | | | | | | | | | | | | | | | | | | | | | | | | | | | | | | | | | | | | | | | | | | | | | | | | | | | |
| | | | | | | | | | | | | | | | | | | | | | | | | | | | | | | | | | | | | | | | | | | | | | | | | | | | | | | | | | | | | | |
| | | | | | | | | | | | | | | | | | | | | | | | | | | | | | | | | | | | | | | | | | | | | | | | | | | | | | | | | | | | | | |

9

Вычислите: $\frac{8}{5} : \frac{16}{25} - 7\frac{1}{4} + 2\frac{5}{8} \cdot \frac{10}{7}$.

Запишите решение и ответ.

Решение:

Ответ:

10

В посёлке городского типа всего 17 жилых домов. Все дома в посёлке высотой больше 5, но меньше 25 метров.

Выберите утверждения, которые верны при указанных условиях.

- 1) В посёлке есть жилой дом высотой 25 метров.
- 2) Разница в высоте любых двух жилых домов посёлка больше 6 метров.
- 3) В посёлке нет жилого дома высотой 4 метра.
- 4) Высота любого жилого дома в посёлке не меньше 3 метров.

В ответе запишите номера выбранных утверждений.

Ответ: _____

11

Сумма трёх чисел равна 140. Первое число составляет 5% этой суммы. Второе число в шесть раз больше первого. Найдите третье число.

Запишите решение и ответ.

Решение:

Ответ:

- 12** Сумма очков на противоположных гранях обычного игрального кубика равна 7. Например, если на грани 1 очко, то на противоположной грани 6 очков, если на грани 2 очка, то на противоположной 5 очков.

На рисунке 1 изображён игровой кубик. На рисунке 2 изображён этот же кубик. Напишите на рисунке 2 число очков на грани, которая отмечена знаком вопроса.

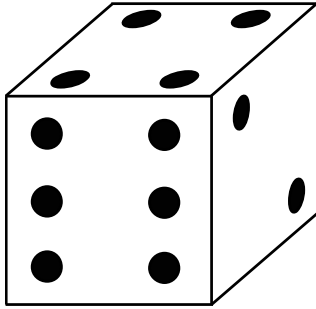


Рис. 1




Рис. 2

- 13** Саша, Света и Юра играли в снежки. Первым кинул снежок Юра и попал в Сашу. Каждый ребёнок в ответ на каждый попавший в него снежок кидает три снежка (не обязательно в того, кто в него попал). Некоторые снежки ни в кого не попали. Всего было три попадания. Сколько снежков ни в кого не попало?

Запишите решение и ответ.

| | |
|----------|--|
| Решение: | |
| | |
| | |
| | |
| | |
| | |
| | |
| | |
| | |
| | |
| | |
| | |
| | |
| | |
| | |
| | |
| | |
| | |
| | |
| Ответ: | |